

Name:
Klasse:

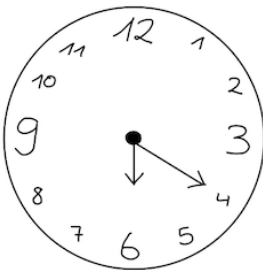
Datum:

Kennst du die Uhrzeiten?

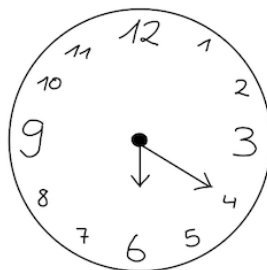
① Partnerarbeit. 

② a) Wie spät ist es?

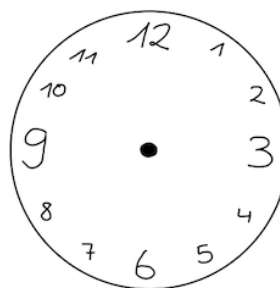
b) Zeichne Minuten- und Stundenzeiger.



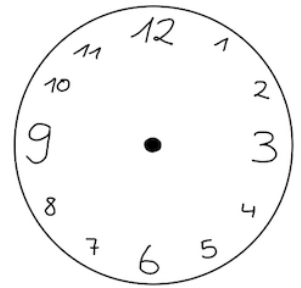
_____ Uhr



_____ Uhr



12:35 Uhr



17:45 Uhr

③ Löse die Aufgaben.

Es ist 13:00 Uhr. Wie spät ist es....

.. in 15 Minuten? ____ : ____

.. in 30 Minuten? ____ : ____

.. in 1 Stunde? ____ : ____

Es ist 15:15 Uhr. Wie spät ist es...

.. in 25 Minuten? ____ : ____

.. in 45 Minuten? ____ : ____

.. in 57 Minuten? ____ : ____

Es ist 8:26 Uhr. Wie spät ist es....

.. in 34 Minuten? ____ : ____

.. in 1,5 Stunden? ____ : ____

.. in 120 Minuten? ____ : ____

* Es ist 6:58 Uhr. Wie spät ist es...

.. in 2,25 Stunden? ____ : ____

.. in 70 Minuten? ____ : ____

.. in 190 Minuten? ____ : ____

Name:
Klasse:

Datum:




A

4

Wie viel Zeit ist vergangen?

Schreibe die auf der Abbildung angegebenen Uhrzeiten auf. Hierfür gibt es zwei Möglichkeiten. (Tipp: Zum Beispiel sieht 15 Uhr und 3 Uhr gleich aus)

a)



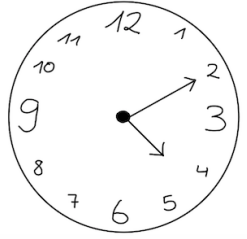
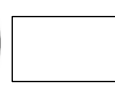
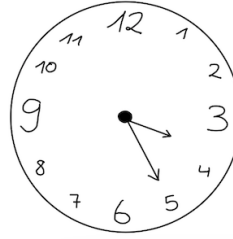
_____ Uhr

_____ Uhr

_____ Uhr

_____ Uhr

b)



_____ Uhr

_____ Uhr

_____ Uhr

_____ Uhr

*

5

Fülle den Lückentext mit den untenstehenden Uhrzeiten und Minuten aus.
Nicht jedes Kästchen muss verwendet werden.

Morgens beginnt die Schule um _____. Die große Pause dauert jeden Tag _____. Nach der Pause dürfen wir immer noch _____ Frühstück, dann beginnt wieder der Unterricht. Dienstags haben wir eine Doppelstunde Sport die _____ dauert. Nachmittags haben alle Kinder der vierten Klasse meistens gegen _____ Schulschluss. Am späten Nachmittag spiele ich gerne mit meinen Freunden im Garten oder lese ein Buch. Im Winter wird es meistens leider schon früh dunkel. Dann gibt es bei uns gegen _____ Abendessen. Allerspätestens um _____ muss ich im Bett liegen, damit ich am nächsten Morgen nicht müde bin.

8:00 Uhr

23.45 Uhr

90 Minuten

5:30 Uhr

18 Uhr

5 Minuten

20:30 Uhr

13:20

20 Minuten

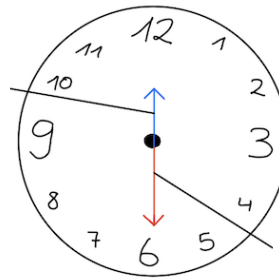
Name:
Klasse:

Datum:

A

Kennst du die Uhrzeiten?

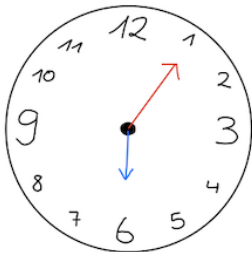
Stundenzeiger



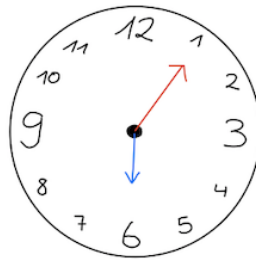
Minutenzeiger

1 Partnerarbeit.

2 a) Wie spät ist es? Achte auf den Stunden- und Minutenzeiger.

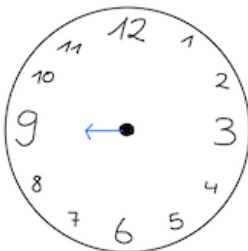


_____ Uhr

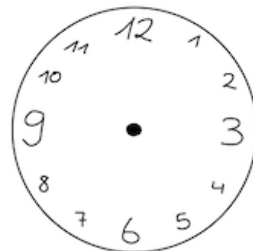


_____ Uhr

b) Zeichne den **Minutenzeiger** in rot und den **Stundenzeiger** in blau in die Uhren ein.



21:35 Uhr



5:10 Uhr

3 Löse die Aufgaben.

Es ist 13:00 Uhr. Wie spät ist es....

.. in 15 Minuten? ____ : ____

.. in 25 Minuten? ____ : ____

.. in 1 Stunde? ____ : ____

Es ist 15:15 Uhr. Wie spät ist es...

.. in 10 Minuten? ____ : ____

.. in 45 Minuten? ____ : ____

.. in 30 Minuten? ____ : ____

* Es ist 8:26 Uhr. Wie spät ist es....

.. in 34 Minuten? ____ : ____

.. in 1 Stunde? ____ : ____

.. in 120 Minuten? ____ : ____

* Es ist 6:50 Uhr. Wie spät ist es...

.. in 20 Minuten? ____ : ____

.. in 2 Stunden? ____ : ____

.. in 45 Minuten? ____ : ____

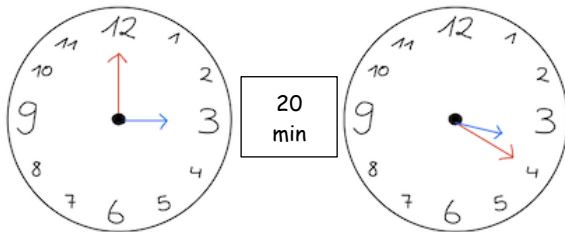
Name:
Klasse:

Datum:

B

- 4) Wie viele Minuten sind vergangen?
Schreibe die auf den Uhren angegebenen Uhrzeiten auf.

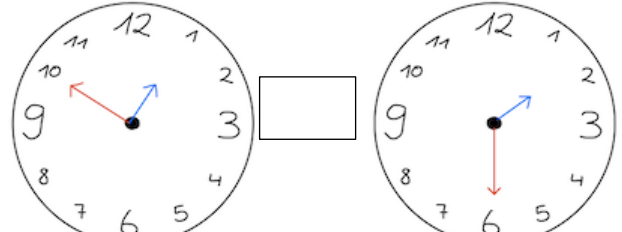
a)



15 Uhr

_____ Uhr

b)



_____ Uhr

_____ Uhr

- * 5) Fülle den Lückentext mit den untenstehenden Uhrzeiten und Minuten aus.
Verwende jedes Kästchen einmal.

Morgens beginnt die Schule um _____ Uhr. Die große Pause dauert jeden Tag _____ Minuten. Nach der Pause dürfen wir immer noch 5 Minuten Frühstück, dann beginnt wieder der Unterricht. Dienstags haben wir eine Doppelstunde Sport, die _____ Minuten dauert. Nachmittags haben alle Kinder der vierten Klasse meistens gegen _____ Uhr Schulschluss. Am späten Nachmittag spiele ich gerne mit meinen Freunden im Garten oder lese ein Buch. Im Winter wird es meistens leider schon früh dunkel. Dann gibt es bei uns gegen _____ Uhr Abendessen. Allerspätstens um _____ Uhr muss ich im Bett liegen, damit ich am nächsten Morgen nicht müde bin.

20:30 Uhr

20 Minuten

18 Uhr

90 Minuten

13:20 Uhr

8:00 Uhr

Musterlösung - Aufgabe 5

Morgens beginnt die Schule um 8 Uhr. Die große Pause dauert jeden Tag 20 Minuten. Nach der Pause dürfen wir immer noch 5 Minuten Frühstücken, dann beginnt wieder der Unterricht. Dienstags haben wir eine Doppelstunde Sport, die 90 Minuten dauert. Nachmittags haben alle Kinder der vierten Klasse meistens gegen 13:20 Uhr Schulschluss. Am späten Nachmittag spiele ich gerne mit meinen Freunden im Garten oder lese ein Buch. Im Winter wird es meistens leider schon früh dunkel. Dann gibt es bei uns gegen 18 Uhr Abendessen. Allerspätestens um 20:30 Uhr muss ich im Bett liegen, damit ich am nächsten Morgen nicht müde bin.